


L'importante risultato della legge di Ampere merita un approfondimento attraverso lo studio di un'applicazione pratica.

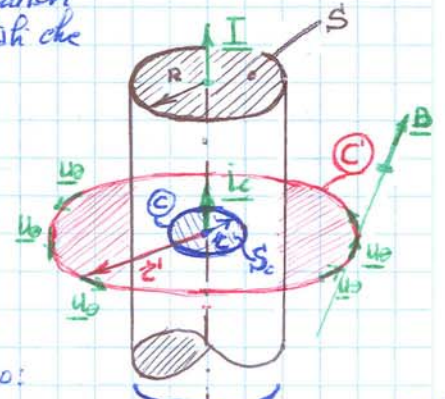
Si immagini avere un corpo conduttore cilindrico, non uniforme, di sezione  $S$  e raggio  $R$ , percorso al suo interno dalla corrente  $I$ .

Si vuole per questo calcolare il campo magnetico  $B$  prodotto dal conduttore  $C$ , lo immagineremo questo come formato da infiniti vortici conduttori filiformi ciascuno di intensità di corrente  $I_i$  tali che



$\sum_{i=1}^n I_i = I$  nella circuitazione  $\odot$  generica per la legge di Ampere si può scrivere

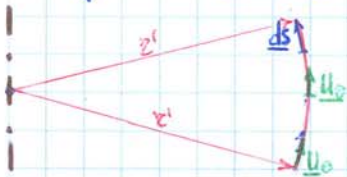
$$\oint_C \underline{B} \cdot d\underline{s} = \mu_0 (I_1 + I_2 + \dots + I_n) = \mu_0 \sum_{i=1}^n I_i$$



Tracciamo al conduttore  $C$  di raggio  $R$ , per la ricerca di  $B$  distinguamo:

→ SE  $r > R$

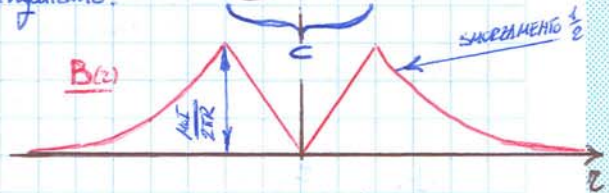
nel circuito  $\odot$  per risolvere l'integrale  $\oint_C \underline{B} \cdot d\underline{s}$  ho bisogno di un "divino" come segue: il generico vettore tangente al circuito  $C$  di raggio  $r$  sia  $\underline{u}_\theta$ , in tale ipotesi si può scrivere



$$\begin{cases} \underline{B} = B(r) \underline{u}_\theta \\ d\underline{s} = ds \underline{u}_\theta \end{cases}$$

perciò il prodotto scalare si calcola in

$$\underline{B} \cdot d\underline{s} = B \underline{u}_\theta \cdot \underline{u}_\theta ds = B ds \cdot 1 \cdot \cos 0 = B ds$$



e la corrente che genera il campo  $B$  è tutta quella che fluisce lungo la sezione  $S \Rightarrow I$ . Ricordando infine che per conduttori filiformi il campo magnetico è costante lungo le circonferenze, l'integrale della legge di Ampere diventa

$$\oint_C \underline{B}(r) \cdot d\underline{s} = \oint_C B(r) ds = B(r) \oint_C ds = B(r) 2\pi r = \mu_0 I$$

$$\underline{B}(r) = \frac{\mu_0 I}{2\pi r} \underline{u}_\theta = \mu_0 \frac{I}{2\pi r} \underline{u}_\theta$$

La legge appena determinata è perfettamente uguale nella struttura a quella già vista di BIOT-SAVART, il che sta a significare che "l'insieme" del conduttore cilindrico  $C$ , il campo magnetico è uguale a quello di un conduttore filiforme: si somma con legge  $1/r$ .

Nel caso in cui si consideri  $r=R \rightarrow B(R) = \frac{\mu_0 I}{2\pi R}$

Nel caso in cui si consideri  $\lim_{r \rightarrow \infty} B(r) = 0$  il campo magnetico all'infinito si annulla

→ SE  $r < R$

in tal caso la circuitazione  $\odot$  considera una corrente  $I_c \neq I$  e

$$\oint_C \underline{B} \cdot d\underline{s} = \mu_0 I_c$$

richiede approfondire meglio quanto usale  $I_c$ ! Considerata la densità di corrente  $J$ , possiamo scrivere

$$I_c = J S_c = J (\pi r^2) = \left( \frac{I}{\pi R^2} \right) (\pi r^2) \rightarrow I_c = I \frac{r^2}{R^2}$$

Noi  $I_c = I \frac{z^2}{R^2}$  e con il solito "trucco" di utilizzare il vettore  $\underline{u}_0$  tale che e nella ipotesi  $R^2$  che lungo la circonferenza  $\odot$  il campo magnetico  $\underline{B}(z)$  in intensità costante, posso scrivere ancora una volta

$$\begin{cases} \underline{B}(z) = B(z) \underline{u}_0 \\ d\underline{s} = ds \underline{u}_0 \end{cases}$$

$$\oint_C \underline{B}(z) d\underline{s} = B(z) \oint ds = B(z) 2\pi z^2 = \mu_0 I_c = \mu_0 I \frac{z^2}{R^2}$$

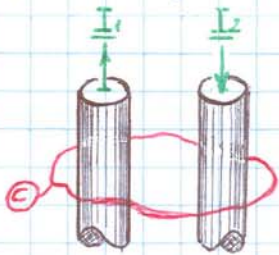
$$\rightarrow B(z) = \frac{\mu_0 I}{2\pi R^2} z^2 \rightarrow$$

$$\underline{B}(z) = \frac{\mu_0 I}{2\pi R^2} z \underline{u}_0 = K_m \frac{2I}{R^2} z \text{ "campo magnetico all'interno" di un conduttore cilindrico}$$

Si osserva qui che

- l'equazione dell'andamento del campo magnetico all'interno di un conduttore cilindrico è una **RETTA**
  - se consideriamo  $\lim_{z \rightarrow 0} B(z) = 0$ , il c.m. si annulla sull'asse del conduttore
  - se calcoliamo  $\lim_{z \rightarrow R} B(z) = \frac{\mu_0 I}{2\pi R}$  che coincide con quanto già trovato con  $B(z')$  ma notiamo anche
- $$\left. \begin{aligned} B'(z) &= \frac{\mu_0 I}{2\pi R^2} \\ B'(z') &= (-) \frac{\mu_0 I}{2\pi (z')^2} \end{aligned} \right\} \begin{aligned} &\text{le due derivate sono diverse} \\ &B(z) \neq B(z') \text{ cio' significa che in } z=R \text{ } \\ &\text{ho derivate destra e derivate sinistra} \\ &\text{sono diverse, cio' in } R \text{ vi e' una } \underline{\text{CUSPIDE}} \end{aligned}$$

Diamo ora un banale esempio pratico, ora consideriamo due conduttori cilindrici  $C_1$  e  $C_2$  percorsi rispettivamente da correnti  $I_1$  ed  $I_2$



Supposto nota la corrente  $I_1$  normalmente viene fornito anche il risultato dell'integrale della legge di Ampere

$$I_1 = 100 \text{ A}$$

$$\Lambda_B = \oint_C \underline{B} d\underline{s} = 10^{-6} \text{ Tm}$$

non devo mettere "il naso" dentro all'integrale perché mi viene già fornito il suo risultato. È questa una situazione tipica per la soluzione dei problemi: lungo la circonferenza  $\odot$  è già noto  $\Lambda_B$  e non fare mai l'errore di entrare nella ricerca della soluzione dell'integrale  $\oint_C \underline{B} d\underline{s}$ , perché spesso non prevede o addirittura molto complicata. Tornando al problema sopra si vuole calcolare  $I_2$ , dato il suo verso come non procedo facendo della legge di Ampere dal punto di vista del cavo, visto che è un dato conosciuto, si può scrivere

$$\Lambda_B = \oint_C \underline{B} d\underline{s} = \mu_0 (I_1 + (-)I_2) = \mu_0 (I_1 - I_2)$$

$$I_1 - I_2 = \frac{\Lambda_B}{\mu_0} \rightarrow I_2 = I_1 - \frac{\Lambda_B}{\mu_0}$$

per i calcoli ricordando che "d'ufficio"  $K_m = 10^{-7}$

$$K_m = \frac{\mu_0}{4\pi} \rightarrow \underline{\mu_0 = 4\pi 10^{-7} = 4\pi K_m}$$

introducendo i valori numerici si ottiene che

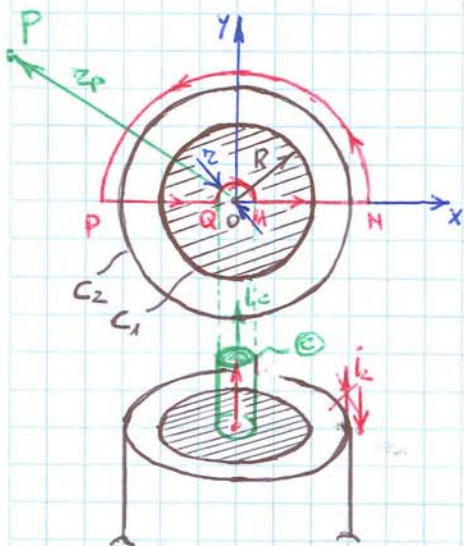
$$I_2 = 100 - \frac{10^{-6}}{4\pi 10^{-7}} = 100 - \frac{10}{4\pi} = \frac{10^2 \cdot 4\pi - 10}{4\pi} \approx \frac{1256 - 10}{4\pi} = \frac{1246}{4\pi} = \underline{I_2 = 99,15 \text{ A}}$$

## ESERCIZIO n° 7.16 pagina 200

Un conduttore cilindrico  $C_1$  molto lungo, parallelo all'asse  $z$ , è percorso dalla corrente  $i_1$ , distribuita uniformemente con densità  $J_1$  su tutta la sezione di raggio  $R = 2 \text{ cm}$ . È circondato da un conduttore  $C_2$ , molto sottile, concentrico con  $C_1$  percorso dalla corrente  $i_2$ . Il campo magnetico a distanza  $z = \frac{1}{2}R = 0,5 \text{ cm}$  dal centro  $O$  vale  $B_z = 20 \mu\text{T}$ ; la circuitazione del campo magnetico  $\underline{B}$  lungo il percorso  $MNPQ$  indicato in figura vale  $\Lambda(\underline{B}) = 0$ . Calcolare

- l'intensità della corrente  $i_1$
- il valore del campo magnetico  $B_p$  in un punto esterno a  $C_2$  alla distanza  $r_p = 10 \text{ cm}$  dal centro  $O$

### RISOLVO



Il testo ci dice che ad una distanza di  $z = 0,5 \text{ cm}$  il campo magnetico vale  $B_z = 20 \mu\text{T}$  significa che la corrente concatenata  $i_c$  del circuito circolare di tale raggio vale, per la legge di Ampere

$$\oint_C \underline{B} ds = \mu_0 i_c = 20 \mu\text{T} = 20 \cdot 10^{-6}$$

ma supposto  $\underline{B}$  costante e, ricordando che all'interno di un conduttore cilindrico  $i_c = \frac{z^2}{R^2} i_1$  possiamo scrivere

$$\oint_C \underline{B} ds = B \oint_C ds = B 2\pi z = \mu_0 i_c = \mu_0 \frac{z^2}{R^2} i_1$$

$$B_z = \frac{\mu_0 i_1 z}{2\pi R^2}$$

accade che tutta la corrente fluente nel conduttore  $C_1$  nella sezione compresa tra  $z=R$  e quella fluente in  $C_2 \rightarrow i_2$  non forniscono alcun contributo; nella relazione sopra unica incognita è la corrente  $i_1$  perciò

$$B_z = \frac{\mu_0}{4\pi} 2i_1 \frac{z}{R^2} \rightarrow i_1 = \frac{B_z R^2}{2\mu_0 z} = \frac{4 \cdot 10^{-6} \cdot 2^2 \cdot 10^{-4}}{4 \cdot 10^{-7} \cdot 0,5 \cdot 10^{-2}} = 4 \cdot 2 \frac{10}{10} = 8 \text{ A} \quad \text{risposta a)}$$

Per il punto  $z$  necessario calcolare  $i_2$ , allo scopo considerato  $\Lambda_B = 0$  significa che le correnti concatenate nel circuito  $MNPQ$  sommate algebricamente danno contributo nullo, mi aspetto poi che  $i_1$  ed  $i_2$  siano discordi perché  $\mu_0 \sum (i_c) = 0$

La superficie di  $C_1$  compresa nel circuito vale  $S_1 = \frac{1}{2} (\pi R^2 - \pi z^2) = \frac{\pi}{2} (R^2 - z^2)$

La densità di corrente per il conduttore  $C_1$  vale  $J_1 = \frac{i_1}{\pi R^2}$

Per la legge di Ampere scriviamo

$$\Lambda_B = \mu_0 (I_1 + I_2) = \mu_0 (J_1 S_1 + J_2 S_2) = \mu_0 \left[ \frac{i_1}{\pi R^2} \frac{\pi}{2} (R^2 - z^2) + \frac{1}{2} i_2 \right] = \frac{\mu_0}{2} \left[ i_1 \frac{R^2 - z^2}{R^2} + i_2 \right] = 0$$

dove l'unica incognita è la corrente  $i_2$  cercata

$$i_2 = -i_1 \left( 1 - \frac{z^2}{R^2} \right) \quad \begin{array}{l} \text{il segno negativo (-)} \\ \text{indica che il verso} \\ \text{del verso di } i_2 \text{ è errato} \end{array} = -8 \left( 1 - \frac{0,25}{4} \right) = -8 \cdot 0,9375 = -7,5 \text{ A}$$

Da cui il campo magnetico  $B_p = \mu_0 (I_1 - I_2) = \mu_0 \left( \frac{i_1}{2\pi r_p} - \frac{i_2}{2\pi r_p} \right)$

ad  $r_p = 10 \text{ cm}$  vale

$$B_p = \frac{\mu_0}{2\pi r_p} (i_1 - i_2) = 40 \cdot \frac{1}{10} \cdot 2 \cdot (8 - 7,5) = 4 \cdot 10^{-6} \text{ T} = 4 \mu\text{T}$$

ESERCIZIO 7.14 pagina 199

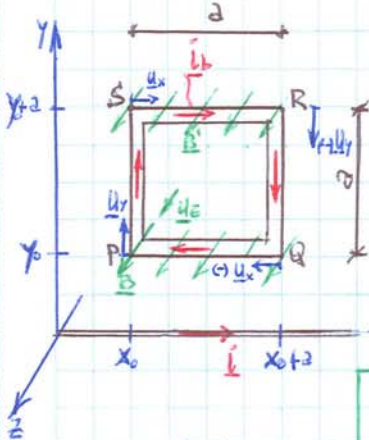
Una bobina conduttrice rigida quadrata di lato  $a = 2 \text{ cm}$ , formata da  $N = 20$  spire compatte, è percorsa dalla corrente  $i_b = 2 \text{ A}$  ed è posta a distanza  $y_0$  da un filo indefinito percorso dalla corrente  $i = 50 \text{ A}$ . I versi delle correnti sono quelli indicati in Figura. Calcolare:

- La forza  $\underline{F}_{(y_0)}$  che agisce sulla bobina
- Il lavoro  $W$  compiuto dalla stessa forza per spostare la bobina da  $y_1 = 1 \text{ cm}$  ad  $y_2 = 2 \text{ cm}$

**RISOLVO**

Componendo il problema risulta che il filo indefinito interagisce con i lati  $PR$  ed  $SR$  della bobina secondo la legge di Laplace ( $\underline{dF}$ )

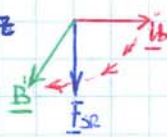
$$\underline{dF} = i_b \underline{u}_T \times \underline{B} \, dl$$



**LATO SR**

$$\underline{u}_T = \underline{u}_x$$

$$\underline{B} = \frac{\mu_0 i}{2\pi(y+a)} \underline{u}_z$$



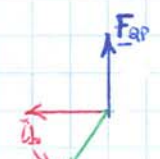
$$\underline{F}_{SR} = \int_{x_0}^{x_0+a} i_b u_x \frac{\mu_0 i}{2\pi(y+a)} u_z \, dx$$

$$= i_b \frac{\mu_0 i}{2\pi(y+a)} (-u_y) \int_{x_0}^{x_0+a} dx = \underline{F}_{SR} = i_b a \frac{\mu_0 i}{2\pi(y+a)} (-u_y)$$

**LATO RP**

$$\underline{u}_T = (-u_x)$$

$$\underline{B} = \frac{\mu_0 i}{2\pi y} u_z$$

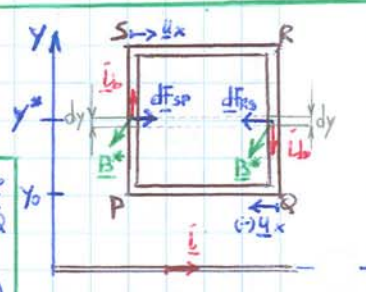


$$\underline{F}_{RP} = \int_{x_0}^{x_0+a} i_b (-u_x) \frac{\mu_0 i}{2\pi y} u_z \, dx = i_b \frac{\mu_0 i}{2\pi y} (u_y) \int_{x_0}^{x_0+a} dx = \underline{F}_{RP} = i_b a \frac{\mu_0 i}{2\pi y} (u_y)$$

lungo i tratti  $SP$  ed  $RQ$  invece le cose si complicano perché il campo magnetico  $\underline{B}$  è in progressiva VARIAZIONE, ma meno che ci si allontana dal filo conduttore, in conformità alla legge di Biot-Savart qui un tratto infinitesimo di bobina  $dy$  tale da poter supporre al suo interno il campo magnetico costante  $\underline{B}^* = \frac{\mu_0 i}{2\pi y} u_z = \text{costante}$  possiamo scrivere

$$\underline{dF}_{SP} = i_b u_y \times \underline{B}^* dy = i_b \frac{\mu_0 i}{2\pi y} (-u_x) dy$$

$$\underline{dF}_{RS} = i_b (-u_y) \times \underline{B}^* dy = i_b \frac{\mu_0 i}{2\pi y} (u_x) dy$$



Le due forze infinitesime agenti su due elementi in "contrappositi" di bobina sono in modulo uguali ma verso opposto, e con stessa retta di azione  $u_x$

$$\underline{dF}_{SP} = (-) \underline{dF}_{RS} \rightarrow \underline{F}_{SP} + \underline{F}_{RS} = 0$$

La risultante delle forze agenti sui lati  $SP$  ed  $RQ$  è nulla

Possiamo concludere dunque che la forza agente sulla bobina vale (per  $N=20$  spire)

$$\underline{F}_{(y_0)} = (\underline{F}_{SR} + \underline{F}_{RP})N = \left[ i_b a \frac{\mu_0 i}{2\pi(y_0+a)} (-u_y) + i_b a \frac{\mu_0 i}{2\pi y_0} u_y \right] N = \underline{F}_{(y_0)} = N i_b i \frac{\mu_0}{4\pi} 2a \left[ \frac{1}{y_0} - \frac{1}{y_0+a} \right] u_y$$

Il lavoro compiuto per spostare la bobina vale  $W = \int_{y_1}^{y_2} \underline{F} \cdot d\underline{y}$  e ricordando che  $\int \frac{1}{y+a} dy = \ln|y+a|$  troviamo che

$$W_{y_1/y_2} = \int_{y_1}^{y_2} (N i_b i \mu_0 2a) \left[ \frac{1}{y} - \frac{1}{y+a} \right] dy = (N i_b i \mu_0 2a) \left( \int_{y_1}^{y_2} \frac{1}{y} dy - \int_{y_1}^{y_2} \frac{1}{y+a} dy \right) = (N i_b i \mu_0 2a) \left( \ln y - \ln|y+a| \right) \Big|_{y_1}^{y_2} =$$

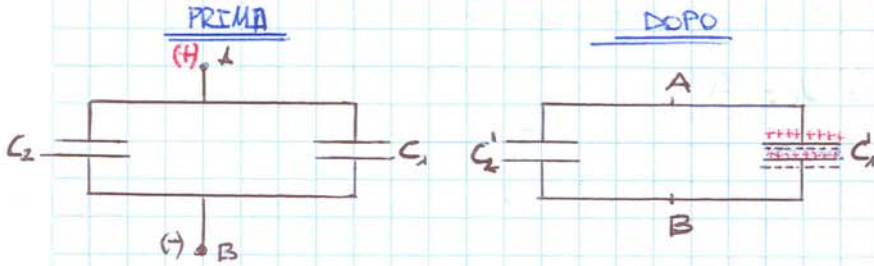
$$= (N i_b i \mu_0 2a) \left( \ln \frac{y}{y+a} \right) \Big|_{y_1}^{y_2} = (N i_b i \mu_0 2a) \left( \ln \frac{y_2}{y_2+a} - \ln \frac{y_1}{y_1+a} \right) = W_{y_1/y_2} = N i_b i \mu_0 2a \ln \left[ \frac{y_2(y_1+a)}{y_1(y_2+a)} \right]$$

$$= 20 \cdot 10 \cdot 50 \cdot 2 \cdot 10^{-7} \cdot 2 \cdot 10^{-2} \ln \left( \frac{2(3)}{1(2)} \right) = 8 \cdot 10^{-6} \ln \left( \frac{3}{2} \right) = 3,24 \cdot 10^{-6} \text{ J}$$

ESERCIZIO N° 4.39 pagina 105

Due condensatori, di capacità  $C_1 = 200 \text{ pF}$  e  $C_2 = 10^3 \text{ pF}$ , collegati in parallelo, vengono caricati con una d.d.p. = 400 volt e quindi isolati. Successivamente lo spazio tra le armature di  $C_1$  viene completamente riempito di acqua distillata, contenuta in un sottile contenitore ( $K=80$ ). Calcolare:  
 a) la variazione  $\Delta V$  della differenza di potenziale tra A e B  
 b) la variazione della carica  $\Delta q_1$  sulle armature di  $C_1$

**RISOLVO**



Quando il generatore di FEM è collegato  $V = 400 \text{ volt} = \text{costante}$ , e nel caso di condensatori in parallelo ricordo vale  
 Inoltre si può subito ottenere la carica circolante che permane anche dopo aver scolto il generatore di FEM -  
 Dopo aver rimosso il generatore e riempito di acqua distillata  $C_1$ , le capacità dei condensatori cambiano in

$$C = C_1 + C_2 = 200 \cdot 10^{-12} + 1000 \cdot 10^{-12} = 1,2 \cdot 10^{-9} \text{ F}$$

$$Q = C \cdot V = 1,2 \cdot 10^{-9} \cdot 4 \cdot 10^2 = 0,48 \cdot 10^{-6} \text{ C} = Q_1 + Q_2$$

$$Q_1 = C_1 V = 8 \cdot 10^{-8} \text{ C}$$

$$Q_2 = C_2 V = 4 \cdot 10^{-7} \text{ C}$$

$$\downarrow$$

$$= Q_1' + Q_2'$$

$$C_1' = K C_1 = 80 \cdot 200 \cdot 10^{-12} = 16 \cdot 10^{-9} \text{ F}$$

$$C_2' = C_2 = 1000 \text{ pF} = 10^{-9} \text{ F}$$

$$C' = C_1' + C_2' = 16 \cdot 10^{-9} + 10^{-9} = 17 \cdot 10^{-9} \text{ F}$$

Per il principio di conservazione della carica  $Q' = Q = C' \cdot V' \rightarrow V' = \frac{Q}{C'} = \frac{0,48 \cdot 10^{-6}}{17 \cdot 10^{-9}} = 28,24 \text{ V}$   
 e la differenza di potenziale tra prima con generatore e dopo

$$\Delta V = V' - V = 28,24 - 400$$

$$\underline{\underline{= (-) 371,76 \text{ volt}}}$$

Nota la tensione  $V'$  e le capacità  $C_1'$  e  $C_2'$

$$Q_1' = C_1' V' = 16 \cdot 10^{-9} \cdot 28,24 = 4,52 \cdot 10^{-7} \text{ C}$$

$$Q_2' = Q - Q_1' = 0,48 \cdot 10^{-6} - 4,52 \cdot 10^{-7} = 2,8 \cdot 10^{-8} \text{ C}$$

e la variazione di carica al condensatore  $C_1$  vale  $\Delta Q_1 = Q_1 - Q_1' = 8 \cdot 10^{-8} - 4,52 \cdot 10^{-7}$   
 cioè al condensatore  $C_1$  si accumula carica  $\underline{\underline{= (-) 3,72 \cdot 10^{-7} \text{ C}}}$

Se ora si volesse, fuori tema, determinare la carica di polarizzazione  $\sigma_p$  in  $C_1$  potrei usare

•  $\sigma_p = \frac{K-1}{K} \sigma_0$  non conosco però la densità di carica libera  $\sigma_0$  e non posso calcolarla, perché non conosco le geometrie dei condensatori la formula non è utilizzabile

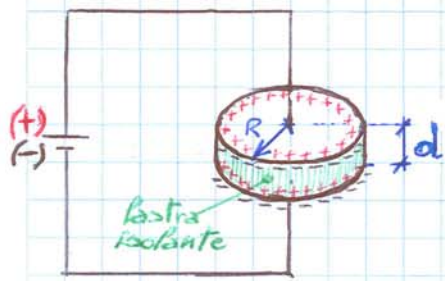
•  $\sigma_p = \epsilon_0 (K-1) E_1$  non conosco il campo  $E_1 \rightarrow C = \epsilon_0 \frac{\sigma}{h}$  e non posso calcolarlo perché mi manca l'altezza  $h$  delle armature, dunque la formula non è utilizzabile

La domanda fuori tema non è risolvibile, perché ci sono troppo pochi dati a disposizione

In un condensatore piano, armature circolari di raggio  $R=20$  cm distanti  $d=0,5$  cm, è collegato ad un generatore con  $V_0=100$  V. Lo spazio tra le armature viene completamente riempito con una lastra isolante, di costante dielettrica  $\epsilon_r=2,5$ . Calcolare:

- la variazione di energia elettrostatica  $\Delta U_e$
- il valore del campo elettrico  $E_k$
- il valore del vettore di polarizzazione.

**RISOLTO**



Ricordiamo la relazione che lega l'energia elettrostatica alle caratteristiche elettriche del circuito

$$U_e = \frac{Q^2}{2C} = \frac{1}{2} CV^2 = \frac{1}{2} QV$$

La carica  $Q$  non è nota e non ci sono elementi per poterla calcolare, perciò la I° e la II° equazione non sono utilizzabili

Mentre la capacità del condensatore piano, me la posso calcolare; nel vuoto vale

$$C = \frac{\epsilon_0 S}{d} = \frac{\epsilon_0 \pi R^2}{d} = \frac{8,85 \cdot 10^{-12} \cdot \pi \cdot 4 \cdot 10^{-2}}{5 \cdot 10^{-3}} = \frac{8,85 \pi 4 \cdot 10^{-14}}{5} \approx 2,23 \cdot 10^{-10} \text{ F} = 223 \text{ pF}$$

Mentre nel dielettrico la capacità diventa  $C' = \epsilon_r C = 2,23 \cdot 10^{-10} \cdot 2,5 = 5,56 \cdot 10^{-10} \text{ F}$   
 & questo punto ho tutti gli elementi per calcolare

$$\Delta U_e = U_e' - U_e = \frac{1}{2} V^2 (C' - C) = \frac{1}{2} V^2 C (\epsilon_r - 1) = \frac{1}{2} \cdot 10^2 \cdot 10^{-10} \cdot 2,23 \cdot 10^{-10} \cdot 1,5 \cdot 10^{-4} = (5 \cdot 2,23 \cdot 1,5) \cdot 10^{-8} = 1,67 \cdot 10^{-6} \text{ J}$$

risposta al quesito (a)

Supposto che sia  $E = \text{costante}$ , per due piani indefiniti vale  $V = Ed$  perciò

$$E_k = \frac{V}{d} = \frac{100}{5 \cdot 10^{-3}} = 2 \cdot 10^4 \text{ volt} = 2 \cdot 10^4 \text{ volt}$$

risposta al quesito (b)

Il campo elettrico così calcolato non è quello nel vuoto  $E_0$  ma quello misurato in presenza del materiale dielettrico tra le armature del condensatore  $E_0/E_k = \epsilon_r \rightarrow E_0 = \epsilon_r E_k$ , e perciò la densità di carica di polarizzazione vale

$$\sigma_p = \epsilon_0 (\epsilon_r - 1) E_k = 8,85 \cdot 10^{-12} \cdot (2,5 - 1) \cdot 2 \cdot 10^4 = 8,85 \cdot 1,5 \cdot 2 \cdot 10^{-8} = \sigma_p = 2,66 \cdot 10^{-7} \text{ C/m}^2$$

Per verificare l'esattezza del calcolo, se determino la densità di carica libera  $\sigma_p$  posso scrivere  $\sigma_p = \sigma_e (1 - 1/\epsilon_r)$  allo scopo

$$Q' = V \cdot C' = 10^2 \cdot 5,56 \cdot 10^{-10} = 5,56 \cdot 10^{-8} \text{ Coulomb}$$

mentre dalla definizione di densità di carica ora disponiamo di tutti gli elementi per calcolare nuovamente

$$\sigma_e = \frac{Q'}{S} = \frac{Q'}{\pi R^2} = \frac{5,56 \cdot 10^{-8}}{\pi \cdot 4 \cdot 10^{-2}} = 4,43 \cdot 10^{-7} \text{ C/m}^2$$

$$\sigma_p = \sigma_e \left( \frac{\epsilon_r - 1}{\epsilon_r} \right) = 4,43 \cdot 10^{-7} \left( \frac{2,5 - 1}{2,5} \right) = 2,66 \cdot 10^{-7} \text{ C/m}^2$$

valore uguale a quanto già sopra determinato